

Протокол результатов училищного этапа олимпиады в ФГКОУ УГСВУ МО РФ

Наименование предмета: география

Класс:6

Дата проведения: 02.10.2018

Максимальное количество баллов:

28

Количество участников:

16




№ п/п	Шифр	Ф.И.О. участника (полностью)	Класс	Количество набранных баллов (по заданиям)						Сумма набранных баллов	% от максимально возможного	Место	Статус участника	
				тур	теоретический тур (28 баллов)									
				№ задания	1	2	3	4	5					6
				количество баллов за задание	11	1	1	3	9	3				
1	ГЕ-6-13	Лакаев Андрей Алексеевич	6Г		11	1	1	2	7	3	25	89%	1	победитель
2	ГЕ-6-02	Базов Матвей Олегович	6А		11	1	1	1	7	3	24	86%	2	призер
3	ГЕ-6-10	Поганов Кирилл Олегович	6В		11	1	1	2	6	3	24	86%	2	призер
4	ГЕ-6-03	Игумнов Даниил Валерьевич	6А		11	1	1	3	5	2	23	82%	3	призер
5	ГЕ-6-01	Бунчеев Егор Александрович	6А		11	1	0	2	5	3	22	79%	4	участник
6	ГЕ-6-15	Сумароков Глеб Евгеньевич	6Г		9	1	1	1	6	3	21	75%	5	участник
7	ГЕ-6-12	Родионов Михаил Игоревич	6В		9	1	1	0	6	3	20	71%	6	участник
8	ГЕ-6-11	Пчелинцев Ярослав Васильевич	6В		11	1	1	0	5	2	20	71%	6	участник
9	ГЕ-6-09	Купрюшин Степан Антонович	6В		11	1	0	1	5	2	20	71%	6	участник
10	ГЕ-6-08	Кудрявцев Станислав Евгеньевич	6В		9	1	0	1	7	2	20	71%	6	участник
11	ГЕ-6-05	Макаров Арсений Сергеевич	6Б		11	0	0	0	7	2	20	71%	7	участник
12	ГЕ-6-04	Илюшкин Даниил Валерьевич	6Б		9	1	0	1	6	3	20	71%	7	участник
13	ГЕ-6-07	Кара Александр Александрович	6В		11	1	1	1	3	2	19	68%	8	участник
14	ГЕ-6-14	Ларионов Владимир Александрович	6Г		11	0	0	0	5	1	17	61%	9	участник
15	ГЕ-6-06	Максимов Владислав Макстмович	6Б		11	1	0	1	0	2	15	54%	10	участник
16	ГЕ-6-16	Тимошкин Дмитрий Вячеславович	6Г		9	1	1	1	1	2	15	54%	10	участник
ИТОГО справилось с заданиями полностью или частично (в чел.):					11	14	9	12	1	16				участник

Замечания по проведению:

Предложения:

Председатель жюри:

Члены жюри:

 /Салихова М.А./
 /Власкина Н.Н./
 /Королева А.Н./

1. Установите соответствие между правой и левой колонкой (за каждый правильный ответ – 1 балл, максимальное – 11)

1. Ф.Ф. Беллинсгаузен и М.П. Лазарев	а) Создатель первого глобуса.
2. Австралия	б) Первооткрыватели Антарктиды.
3. Америка	в) Имя Колумба.
4. Чертеж	г) Первая карта.
5. Тихий	д) Руководитель первой кругосветной экспедиции в 1519-1522 г.
6. Эратосфен	е) Океан, впервые пересеченный европейцами в XVI в.
7. Мартин Бехайм	ж) Прибор, изобретение которого способствовало развитию мореплавания.
8. Антарктида	з) Материк, который открыли самым последним.
9. Компас	и) Греческий ученый, первым составивший карту мира и вычисливший размеры Земли.
10. Магеллан	к) Часть света, открытая Колумбом.
11. Христофор	л) Материк, открытый в XVII в.

2. Какому азимуту соответствует направление на северо-запад (СЗ)?

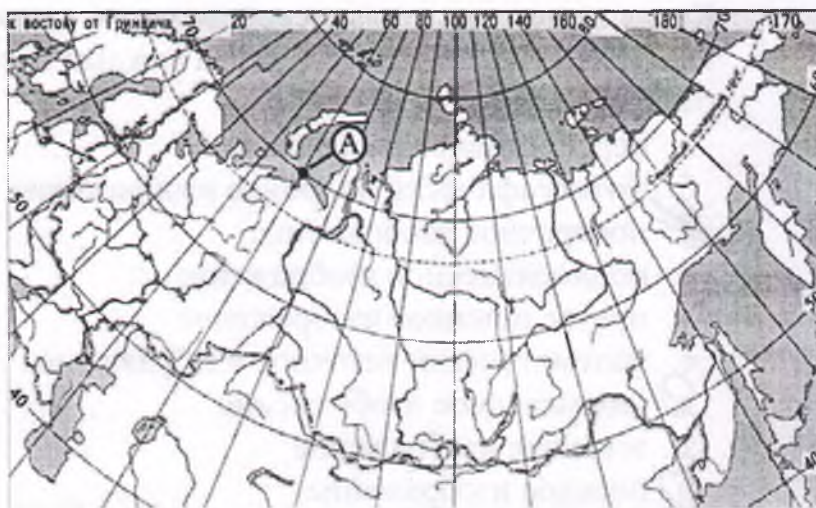
(за верный ответ 1 балл)

а) 180°; б) 315°; в) 90°; г) 225°.

3. Какие географические координаты имеет точка, обозначенная на карте России буквой А? (за верный ответ 1 балл)

- а) 70° с.ш. 60° в.д.
 б) 60° с.ш. 70° в.д.
 в) 70° с.ш. 60° з.д.
 г) 60° с.ш. 70° з.д.

а. . 15



4. Определите, какие продукты вулканического извержения описываются в стихотворении А. С. Пушкина (3 балла)

Везувий зев открыл –
Дым хлынул клубом – пламя
Широко разлилось,
Как боевое знамя.
Земля волнуется –
С шатнувшихся колонн
Кумиры падают!
Народ, гонимый страхом,
Под каменным дождем,
Под воспаленным прахом.
Толпами, стар и млад,
Бежит из града вон.

мава 15

Задание 5.

Какой замечательный прибор изображен на рисунке? Где он был изобретен? Куда показывает рука человека? Какое он имеет отношение к географическим картам?



это компас, был изобретен в Китае,
указывает на север, компас применяет
За прибор, изображенный на рисунке, - 3 балла, за остальные ответы с обоснованием - по 2 балла. Максимальная оценка - 9 баллов.
нам
применяет
по кар-
те 2

Задание 6.

Какие из перечисленных свойств верно характеризуют географическую карту? (Выберете три) (1 балл за каждый правильный ответ, максимум – 3 балла)

- а. перспективное изображение
- б. фотографически подобное изображение
- в. поперечное изображение
- г. полноразмерное изображение
- д. преувеличенное изображение
- е. математически неточное изображение
- ж. уменьшенное изображение
- з. эскизное изображение
- и. плоское изображение
- к. изображение в условных знаках

35

245

Всероссийская олимпиада школьников по географии.

Школьный этап 2018/2019 уч. год

6 класс

1. Установите соответствие между правой и левой колонкой (за каждый правильный ответ – 1 балл, максимальное – 11)

1б 1. Ф.Ф. Беллингаузен и М.П. Лазарев	а) Создатель первого глобуса.
1д 2. Австралия	б) Первооткрыватели Антарктиды.
1к 3. Америка	в) Имя Колумба.
1в 4. Чертеж	г) Первая карта.
1е 5. Тихий	д) Руководитель первой кругосветной экспедиции в 1519-1522 г.
1и 6. Эратосфен	е) Океан, впервые пересеченный европейцами в XVI в.
1а 7. Мартин Бехайм	ж) Прибор, изобретение которого способствовало развитию мореплавания.
1з 8. Антарктида	з) Материк, который открыли самым последним.
1ж 9. Компас	и) Греческий ученый, первым составивший карту мира и вычисливший размеры Земли.
1г 10. Магеллан	к) Часть света, открытая Колумбом.
1б 11. Христофор	л) Материк, открытый в XVII в.

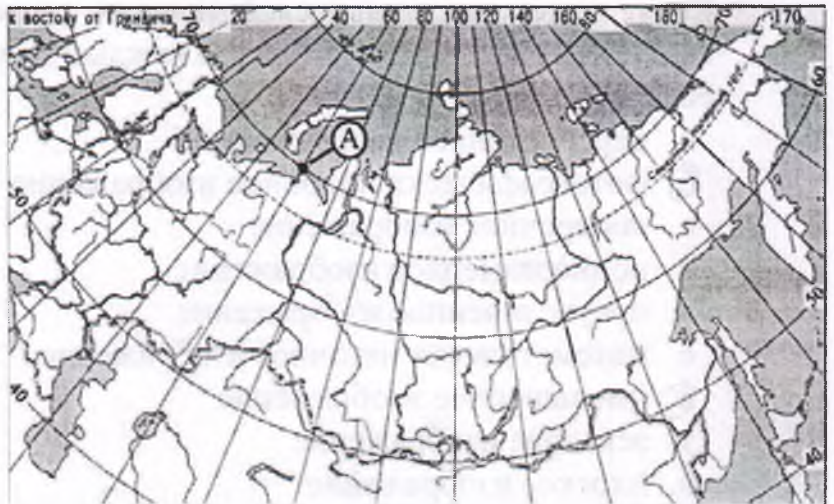
2. Какому азимуту соответствует направление на северо-запад (СЗ)?

(за верный ответ 1 балл)

- а) 180°; б) 315°; в) 90°; г) 225°.

3. Какие географические координаты имеет точка, обозначенная на карте России буквой А? (за верный ответ 1 балл)

- а) 70° с.ш. 60° в.д.
 б) 60° с.ш. 70° в.д.
 в) 70° с.ш. 60° з.д.
 г) 60° с.ш. 70° з.д.



4. Определите, какие продукты вулканического извержения описываются в стихотворении А. С. Пушкина (3 балла)

Везувий зев открыл –
Дым хлынул клубом – пламя
Широко разлилось,
Как боевое знамя.
Земля волнуется –
С шатнувшихся колонн
Кумиры падают!
Народ, гонимый страхом,
Под каменным дождем,
Под воспаленным прахом.
Толпами, стар и млад,
Бежит из града вон.

лава ✓
вулканический камень ✓
огонь

камень ✓

35

Задание 5.

Какой замечательный прибор изображен на рисунке? Где он был изобретен? Куда показывает рука человека? Какое он имеет отношение к географическим картам?



За прибор, изображенный на рисунке, - 3 балла, за остальные ответы с обоснованием - по 2 балла. Максимальная оценка - 9 баллов.

На рисунке изображен ³ портативный ² солнечный компас. Рука человека показывает на север. Это с помощью него составляются географические карты.

Задание 6.

Какие из перечисленных свойств верно характеризуют географическую карту? (Выберете три) (1 балл за каждый правильный ответ, максимум – 3 балла)

- а. перспективное изображение
- б. фотографически подобное изображение
- в. поперечное изображение
- г. полноразмерное изображение
- д. преувеличенное изображение
- е. математически неточное изображение
- ж. уменьшенное изображение
- з. эскизное изображение
- и. плоское изображение
- к. изображение в условных знаках

25

235

Всероссийская олимпиада школьников по географии.

Школьный этап 2018/2019 уч. год

6 класс

1. Установите соответствие между правой и левой колонкой (за каждый правильный ответ – 1 балл, максимальное – 11)

1. Ф.Ф. Беллинсгаузен и М.П. Лазарев	а) Создатель первого глобуса.
2. Австралия	б) Первооткрыватели Антарктиды.
3. Америка	в) Имя Колумба.
4. Чертеж	г) Первая карта.
5. Тихий	д) Руководитель первой кругосветной экспедиции в 1519-1522 г.
6. Эратосфен	е) Океан, впервые пересеченный европейцами в XVI в.
7. Мартин Бехайм	ж) Прибор, изобретение которого способствовало развитию мореплавания.
8. Антарктида	з) Материк, который открыли самым последним.
9. Компас	и) Греческий ученый, первым составивший карту мира и вычисливший размеры Земли.
10. Магеллан	к) Часть света, открытая Колумбом.
11. Христофор	л) Материк, открытый в XVII в.

1-д, 2-л, 3-к, 4-г, 5-е, 6-ч, 7-а, 8-з, 9-ж, 10-в, 11-б

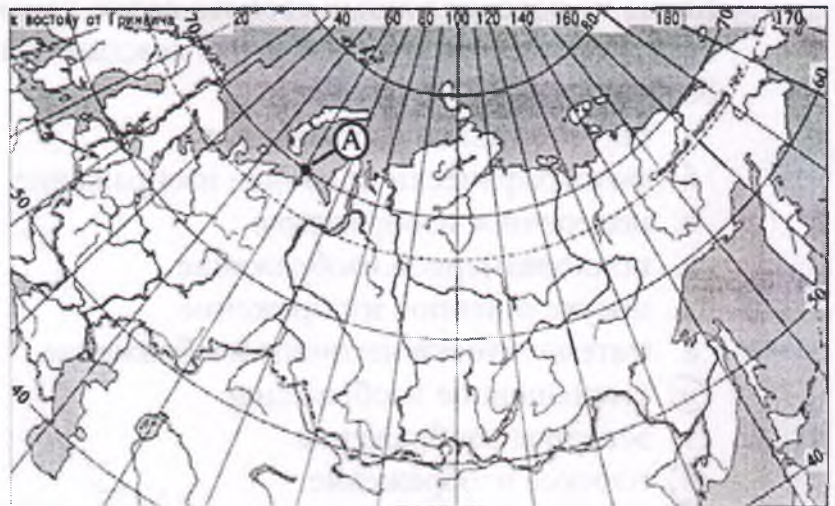
2. Какому азимуту соответствует направление на северо-запад (СЗ)?

(за верный ответ 1 балл)

а) 180°; б) 315°; в) 90°; г) 225°.

3. Какие географические координаты имеет точка, обозначенная на карте России буквой А? (за верный ответ 1 балл)

- а) 70° с.ш. 60° в.д.
 б) 60° с.ш. 70° в.д.
 в) 70° с.ш. 60° з.д.
 г) 60° с.ш. 70° з.д.



4. Определите, какие продукты вулканического извержения описываются в стихотворении А. С. Пушкина (3 балла)

Везувий зев открыл –
Дым хлынул клубом – пламя
Широко разлилось,
Как боевое знамя.
Земля волнуется –
С шатнувшихся колонн
Кумиры падают!
Народ, гонимый страхом,
Под каменным дождем,
Под воспаленным прахом.
Толпами, стар и млад,
Бежит из града вон.

¹ лава, ¹ вулканическая пыль

Задание 5.

Какой замечательный прибор изображен на рисунке? Где он был изобретен? Куда показывает рука человека? Какое он имеет отношение к географическим картам?



Это ³ компас, он изобретен в ² Китае, ⁰ рука человека показывает на Запад, он помогает определять стороны. За прибор, изображенный на рисунке, - 3 балла, за остальные ответы с обоснованием - ¹ горизонталь. по 2 балла. Максимальная оценка - 9 баллов.

25

1
65

Задание 6.

Какие из перечисленных свойств верно характеризуют географическую карту? (Выберете три) (1 балл за каждый правильный ответ, максимум – 3 балла)

- а. перспективное изображение
- б. фотографически подобное изображение
- в. поперечное изображение
- г. полноразмерное изображение
- д. преувеличенное изображение
- е. математически неточное изображение
- ж. уменьшенное изображение
- з. эскизное изображение
- и. плоское изображение
- к. изображение в условных знаках

35

245

**Всероссийская олимпиада школьников по географии.
Школьный этап 2018/2019 уч. год
6 класс**

1. Установите соответствие между правой и левой колонкой (за каждый правильный ответ – 1 балл, максимальное – 11)

1. Ф.Ф. Беллинсгаузен и М.П. Лазарев	а) Создатель первого глобуса.
2. Австралия	б) Первооткрыватели Антарктиды.
3. Америка	в) Имя Колумба.
4. Чертеж	г) Первая карта.
5. Тихий	д) Руководитель первой кругосветной экспедиции в 1519-1522 г.
6. Эратосфен	е) Океан, впервые пересеченный европейцами в XVI в.
7. Мартин Бехайм	ж) Прибор, изобретение которого способствовало развитию мореплавания.
8. Антарктида	з) Материк, который открыли самым последним.
9. Компас	и) Греческий ученый, первым составивший карту мира и вычисливший размеры Земли.
10. Магеллан	к) Часть света, открытая Колумбом.
11. Христофор	л) Материк, открытый в XVII в.

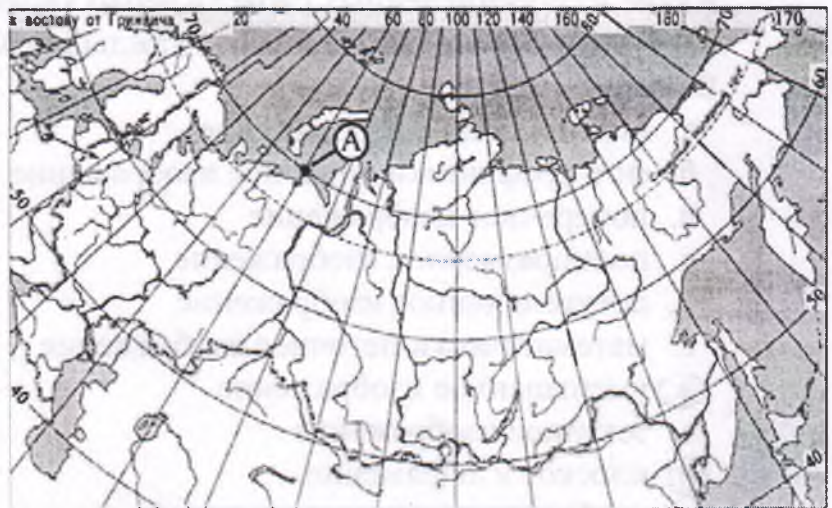
1-а; 2-б; 3-к; 4-г; 5-д; 6-е; 7-ж; 8-з; 9-и; 10-к; 11-л

2. Какому азимуту соответствует направление на северо-запад (СЗ)?
(за верный ответ 1 балл)

- а) 180°; б) 315°; в) 90°; г) 225°

3. Какие географические координаты имеет точка, обозначенная на карте России буквой А? (за верный ответ 1 балл)

- а) 70° с.ш. 60° в.д.
б) 60° с.ш. 70° в.д.
в) 70° с.ш. 60° з.д.
г) 60° с.ш. 70° з.д.



1

4. Определите, какие продукты вулканического извержения описываются в стихотворении А. С. Пушкина (3 балла)

Везувий зев открыл –
Дым хлынул клубом – пламя
Широко разлилось,
Как боевое знамя.
Земля волнуется –
С шатнувшихся колонн
Кумиры падают!
Народ, гонимый страхом,
Под каменным дождем,
Под воспаленным прахом.
Толпами, стар и млад,
Бежит из града вон.

лава 1
вулканический камень 1
пепел
~~вулканический~~

25

Задание 5.

Какой замечательный прибор изображен на рисунке? Где он был изобретен? Куда показывает рука человека? Какое он имеет отношение к географическим картам?



За прибор, изображенный на рисунке, - 3 балла, за остальные ответы с обоснованием - по 2 балла. Максимальная оценка - 9 баллов.

Калитас - Этот прибор изобрели в Китае.
Рука человека показывает на север. Калитас очень важен для ориентирования по географической карте.

Задание 6.

Какие из перечисленных свойств верно характеризуют географическую карту? (Выберете три) (1 балл за каждый правильный ответ, максимум - 3 балла)

- а. перспективное изображение
- б. фотографически подобное изображение
- в. поперечное изображение
- г. полноразмерное изображение
- д. преувеличенное изображение
- е. математически неточное изображение
- ж. уменьшенное изображение
- з. эскизное изображение
- и. плоское изображение
- к. изображение в условных знаках

35

255