

Протокол результатов училищного этапа олимпиады в ФГКОУ УГСВУ МО РФ

Наименование предмета: география

Класс: 8

Дата проведения: 02.10.2018

Максимальное количество баллов: 33

Количество участников: 14




№ п/п	Шифр	Ф.И.О. участника (полностью)	Класс	Количество набранных баллов (по заданиям)											Сумма набранных баллов	% от максимально возможного	Место	Статус участника
				№ задания	1	2	3	4	5	6	7	8	9	10				
				количество баллов за задание	1	1	1	1	1	2	4	6	6	10				
1	ГЕ-8-14	Мощенко Иван Алексеевич	8Г		1	1	1	1	1	1	4	6	6	4	26	79%	1	победитель
2	ГЕ-8-12	Сызранцев Максим Дмитриевич	8В		0	1	1	1	1	2	4	6	6	3	25	76%	2-3	призер
3	ГЕ-8-13	Шайдуллин Амин Ирекович	8В		0	1	1	1	1	2	4	6	6	3	25	76%	2-3	призер
4	ГЕ-8-03	Изместьев Никита Александрович	8А		0	1	1	1	1	1	4	6	6	3	24	73%	4	участник
5	ГЕ-8-04	Христолюбов Николай Владимирович	8А		0	1	1	1	1	1	4	6	6	3	24	73%	4	участник
6	ГЕ-8-02	Бронский Павел Алексеевич	8А		0	1	1	0	1	1	4	6	6	3	23	70%	5	участник
7	ГЕ-8-07	Роднов Алексей Иванович	8Б		0	1	1	0	0	1	4	6	6	0	19	56%	6	участник
8	ГЕ-8-10	Романов Иван Алексеевич	8В		1	1	1	1	1	1	2	4	6	1	19	56%	6	участник
9	ГЕ-8-08	Филоненко Игорь Петрович	8В		0	1	1	0	1	1	1	6	6	1	18	55%	7	участник
10	ГЕ-8-01	Журавлев Сергей Андреевич	8А		0	1	1	0	1	0	4	0	6	3	16	48%	8	участник
11	ГЕ-8-09	Бельский Дмитрий Сергеевич	8В		0	1	1	1	1	0	4	0	6	1	15	45%	9	участник
12	ГЕ-8-05	Дворянсков Павел Андреевич	8Б		0	0	1	1	1	1	2	0	6	2	14	42%	10	участник
13	ГЕ-8-11	Лялин Никита Евгеньевич	8В		0	1	1	0	0	1	4	0	6	0	13	39%	11	участник
14	ГЕ-8-06	Морозов Тимур Равшанович	8Б		0	1	1	0	1	0	4	0	6	2	9	27%	12	участник
ИТОГО справилось с заданиями полностью или частично (в чел.):					2	13	14	8	12	11	14	9	14	12				

Замечания по проведению:

Предложения:

Председатель жюри:

Члены жюри:

 /Салихова М.А./
 /Власкина Н.Н./
 /Королева А.Н./

ГЕ-8-12

Всероссийская олимпиада школьников по географии.
Школьный этап 2018/2019 уч. год
8 класс

ТЕСТОВЫЕ ЗАДАНИЯ.

Задания на 1 балл.

- Выбери правильный ответ. Для государственных границ России характерно следующее:
 - По общей протяженности морских границ Россия уступает только Канаде.
 - По суше Россия граничит с 20 странами.
 - В Азии у России больше сухопутных соседей, чем в Европе.
 - Морскими соседями России на Балтийском море являются Швеция, Дания и Германия, на Черном – Румыния, Болгария и Турция.
- В какой день продолжительность светового дня на Северном полюсе наибольшая:
 - 21 марта
 - 22 июня
 - 15 сентября
 - 1 января
- Определите правильно среднесуточную температуру воздуха по следующим данным:

в 6 ч. – 10°С; в 12 ч. – 15°С; в 18 ч. – 13°С; в 20 ч. – 11°С:

 - 11°С
 - 5°С
 - 12,25°С
 - 9, 25°С
- Какая из гидрографических характеристик не обозначается на топографических картах?
 - постоянная береговая линия водного объекта,
 - неопределенная береговая линия водного объекта,
 - ширина рек и каналов,
 - направление и скорость течения рек,
 - ширина и высота дамб,
 - возраст рек и озер,
 - водохранилища и другие сооружения для сбора воды.
- В каком направлении перемещаются школьники, если слева от себя они могут видеть Полярную звезду?
 - на восток,
 - на запад,
 - на север,
 - на юг,
 - на юго-запад,
 - на северо-запад,
 - на северо-восток.

$t_{ср} = \frac{10 + 15 + 13 + 11}{4} = 12,25^{\circ}C$

Задание на 2 балла

- От зарубежной туристической фирмы поступило предложение о разработке туристических маршрутов, совмещающих морские и сухопутные путешествия по европейской части России. Ученик составил несколько вариантов маршрутов, но при подготовке допустил ошибки. Выбери правильные маршруты для туристических путешествий по России.
 - На теплоходе по Баренцеву и Белому морям, а затем на поезде от порта-города Выборг до Санкт-Петербурга и Москвы.
 - На теплоходе по Балтийскому морю, а затем на поезде до Санкт-Петербурга и Москвы.
 - На теплоходе по Черному и Азовскому морям, а затем от Ростова-на-Дону на поезде до Волгограда и Москвы.

Задание на 4 балла.

Установи соответствие между именами русских исследователей, объектами и датами их открытия:

А. Н. М. Пржевальский	1. 1648 г.	I Северный морской путь
Б. С. И. Дежнев	2. 1639 г.	II Берега Охотского моря
В. О. Ю. Шмидт	3. 1867-1869 гг.	III Крайний восточный мыс Евразии
Г. Ю. Москвитин	4. 1932 г.	IV Уссурийский край

Задание на 6 баллов.

- Распределите города России в порядке наступления в них нового дня:
 - Москва
 - Челябинск
 - Владивосток
 - Анадырь
 - Магадан
 - Якутск

- На приведенных рисунках вы видите изображения стран и рисунки, характеризующие эти страны.



Задание на 10 баллов

Внимательно прочитайте описания и сопоставьте номера объектов с их названиями (каждый правильный ответ оценивается в 1 балла)

- Река Злыня имеет только один приток;
- Реки Косиновка, Песчанка и Томянка являются левыми притоками;
- Село Болотино находится ближе всех к истоку реки Шумной;
- Сёла Болотино, Разливино и Низкое находятся на левом берегу реки Шумной;
- Село Низкое имеет наименьшую абсолютную высоту над уровнем моря;
- Реки Жалейка и Песчанка – притоки реки Косиновки;
- Село Заверть расположено в месте слияния рек Злыни и Шумной;
- Село Болотино расположено восточнее села Заверть;
- Сёла Заверть и Разливино расположены в среднем течении реки Шумной;
- Село Разливино расположено вблизи устья реки Косиновки.



A3 IV } 46
 Б1 III
 В3 I
 Г2 II

Зад. на 6 баллов.

1) Омск → Магадан и Владивосток (одним ч.п.) → Якутск → Челябинск → Москва и Санкт-Петербург (одним ч.п.) 66.

2) Б1 - Австралия присуща только эндемик, как коала

В2 - Когда слывется хоккеем → коньки

А3 - Бразилия - страна лидер по экспорту кофе 65.



Санкт-Петербург - Омск

1000-1000

17E-8-13

Всероссийская олимпиада школьников по географии.
Школьный этап 2018/2019 уч. год
8 класс

ТЕСТОВЫЕ ЗАДАНИЯ.

Задания на 1 балл.

- Выбери правильный ответ. Для государственных границ России характерно следующее:
 - По общей протяженности морских границ Россия уступает только Канаде.
 - По суше Россия граничит с 20 странами.
 - В Азии у России больше сухопутных соседей, чем в Европе.
 - Морскими соседями России на Балтийском море являются Швеция, Дания и Германия, на Черном – Румыния, Болгария и Турция.
- В какой день продолжительность светового дня на Северном полюсе наибольшая:
 - 21 марта
 - 22 июня
 - 15 сентября
 - 1 января
- Определите правильно среднесуточную температуру воздуха по следующим данным: в 6 ч. – 10°С; в 12 ч. – 15°С; в 18 ч. – 13°С; в 20 ч. – 11°С:
 - 11°С
 - 5°С
 - 12,25°С
 - 9, 25°С
- Какая из гидрографических характеристик не обозначается на топографических картах?
 - постоянная береговая линия водного объекта,
 - неопределенная береговая линия водного объекта,
 - ширина рек и каналов,
 - направление и скорость течения рек,
 - ширина и высота дамб,
 - возраст рек и озер,
 - водохранилища и другие сооружения для сбора воды.
- В каком направлении перемещаются школьники, если слева от себя они могут видеть Полярную звезду?
 - на восток, б. на запад, в. на север, г. на юг, д. на юго-запад, е. на северо-запад, ж. на северо-восток.

Задание на 2 балла

- От зарубежной туристической фирмы поступило предложение о разработке туристических маршрутов, совмещающих морские и сухопутные путешествия по европейской части России. Ученик составил несколько вариантов маршрутов, но при подготовке допустил ошибки. Выбери правильные маршруты для туристических путешествий по России.
 - На теплоходе по Баренцеву и Белому морям, а затем на поезде от порта-города Выборг до Санкт-Петербурга и Москвы.
 - На теплоходе по Балтийскому морю, а затем на поезде до Санкт-Петербурга и Москвы.
 - На теплоходе по Черному и Азовскому морям, а затем от Ростова-на-Дону на поезде до Волгограда и Москвы.

Задание на 4 балла.

Установи соответствие между именами русских исследователей, объектами и датами их открытия:

А Н.М. Пржевальский	1. 1648 г.	I Северный морской путь
Б. С.И. Дежнев	2. 1639 г.	II Берега Охотского моря
В. О.Ю. Шмидт	3. 1867-1869 гг.	III Крайний восточный мыс Евразии
Г. Ю. Москвитин	4. 1932г.	IV Уссурийский край

Задание на 6 баллов.

- Распределите города России в порядке наступления в них нового дня:
 - Москва б. Челябинск в. Владивосток г. Анадырь д. Магадан е. Якутск

- На приведенных рисунках вы видите изображения стран и рисунки, характеризующие эти страны.

А - Бразилия
 Б - Австралия
 В - Канада



Ответ: А - 3
 Б - 1
 В - 2

Задание на 10 баллов

Внимательно прочитайте описания и сопоставьте номера объектов с их названиями (каждый правильный ответ оценивается в 1 балла)

- Река Злыня имеет только один приток;
- Реки Косиновка, Песчанка и Томянка являются левыми притоками;
- Село Болотино находится ближе всех к истоку реки Шумной;
- Сёла Болотино, Разливино и Низкое находятся на левом берегу реки Шумной;
- Село Низкое имеет наименьшую абсолютную высоту над уровнем моря;
- Реки Жалейка и Песчанка – притоки реки Косиновки;
- Село Заверть расположено в месте слияния рек Злыни и Шумной;
- Село Болотино расположено восточнее села Заверть;
- Сёла Заверть и Разливино расположены в среднем течении реки Шумной;
- Село Разливино расположено вблизи устья реки Косиновки.



A 3 IV
 Б 1 III
 В 4 I
 Г 2 II

Г А В Е Б А

Речи

- №1 - Шушкая +
- №2 - Косиновка -
- №3 - Песчанка -
- №4 - Малейка -
- №5 - Зыбка -
- №6 - Шалянка -
- №7 - ~~Зыбка~~

Села:

- №8 - Кузное -
- №9 - Заверть +
- №10 - Балотино +

3



Л. А. Б. П. А. В. Г. Д. Е. З. И. К. Л. М. Н. О. П. Р. С. Т. У. Ф. Х. Ц. Ч. Ш. Щ. Ъ. Ы. Э. Ю. Я.

Вероссийская олимпиада школьников по географии.
Школьный этап 2018/2019 уч. год
8 класс

ТЕСТОВЫЕ ЗАДАНИЯ.

Задания на 1 балл.

- Выбери правильный ответ. Для государственных границ России характерно следующее:
 - По общей протяженности морских границ Россия уступает только Канаде. 15
 - По суше Россия граничит с 20 странами.
 - В Азии у России больше сухопутных соседей, чем в Европе.
 - Морскими соседями России на Балтийском море являются Швеция, Дания и Германия, на Черном – Румыния, Болгария и Турция.
- В какой день продолжительность светового дня на Северном полюсе наибольшая:
 - 21 марта
 - 22 июня 15
 - 15 сентября
 - 1 января
- Определите правильно среднесуточную температуру воздуха по следующим данным: в 6 ч. – 10° С; в 12 ч. – 15° С; в 18 ч. – 13° С; в 20 ч. – 11° С:
 - 11° С
 - 5° С
 - 12,25° С 15
 - 9,25° С
- Какая из гидрографических характеристик не обозначается на топографических картах?
 - постоянная береговая линия водного объекта,
 - неопределенная береговая линия водного объекта,
 - ширина рек и каналов,
 - направление и скорость течения рек,
 - ширина и высота дамб,
 - возраст рек и озер, 15
 - водохранилища и другие сооружения для сбора воды.
- В каком направлении перемещаются школьники, если слева от себя они могут видеть Полярную звезду?
 - на восток, б. на запад, в. на север, г. на юг, д. на юго-запад, е. на северо-запад, ж. на северо-восток. 15/55

Задание на 2 балла

- От зарубежной туристической фирмы поступило предложение о разработке туристических маршрутов, совмещающих морские и сухопутные путешествия по европейской части России. Ученик составил несколько вариантов маршрутов, но при подготовки допустил ошибки. Выбери правильные маршруты для туристических путешествий по России.
 - На теплоходе по Баренцеву и Белому морям, а затем на поезде от порта-города Выборг до Санкт-Петербурга и Москвы.
 - На теплоходе по Балтийскому морю, а затем на поезде до Санкт-Петербурга и Москвы.
 - На теплоходе по Черному и Азовскому морям, а затем от Ростова-на-Дону на поезде до Волгограда и Москвы. 15

Задание на 4 балла.

Установи соответствие между именами русских исследователей, объектами и датами их открытия:

А 3 IV	А Н.М. Пржевальский	1. 1648 г.	I Северный морской путь
Б 1 III	Б. С.И. Дежнев	2. 1639 г.	II Берега Охотского моря
В 4 I	В. О.Ю. Шмидт	3. 1867-1869 гг.	III Крайний восточный мыс Евразии
Г 2 II	Г. Ю. Москвитин	4. 1932г.	IV Уссурийский край

Задание на 6 баллов.

- Распределите города России в порядке наступления в них нового дня:
 - Москва б. Челябинск в. Владивосток г. Анадырь д. Магадан е. Якутск

6 5 3 1 2 4 65

- На приведенных рисунках вы видите изображения стран и рисунки, характеризующие эти страны.



Задание на 10 баллов

Внимательно прочитайте описания и сопоставьте номера объектов с их названиями (каждый правильный ответ оценивается в 1 балла)

- Река Злыня имеет только один приток;
- Реки Косиновка, Песчанка и Томянка являются левыми притоками;
- Село Болотино находится ближе всех к истоку реки Шумной;
- Сёла Болотино, Разливино и Низкое находятся на левом берегу реки Шумной;
- Село Низкое имеет наименьшую абсолютную высоту над уровнем моря;
- Реки Жалейка и Песчанка – притоки реки Косиновки;
- Село Заверть расположено в месте слияния рек Злыни и Шумной;
- Село Болотино расположено восточнее села Заверть;
- Сёла Заверть и Разливино расположены в среднем течении реки Шумной;
- Село Разливино расположено вблизи устья реки Косиновки.



48